

SCRIVI I NUMERI ● 2


1. OSSERVA I DISEGNI E COMPLETA LA TABELLA. SEGUI GLI ESEMPI.

	NUMERO IN CIFRE	NUMERO IN LETTERE
	5	CINQUE
		QUATTRO
		
		
	0	
	2	
		
		
		
		

Scrivere i numeri

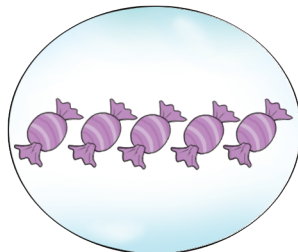
QUANTI SONO?

1. CONTA E SCRIVI IL NUMERO. SEGUI L'ESEMPIO.



QUANTI ORSI?

3



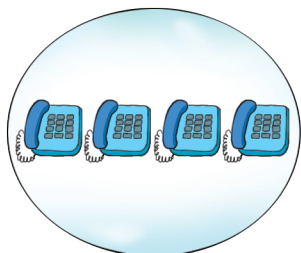
QUANTE CAMELLE?

.....




QUANTE STELLE?

.....




QUANTI TELEFONI?

.....



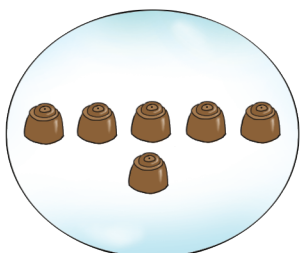
QUANTI ALBERI?

.....



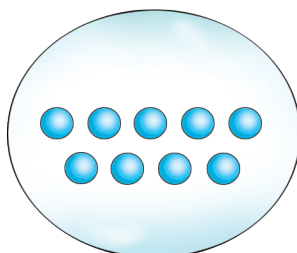
QUANTI LIBRI?

.....




QUANTI CIOCCOLATINI?

.....




QUANTE BIGLIE?

.....



QUANTE BAMBOLE?

.....



QUANTI OGGETTI?

.....

STRATEGIE DI CALCOLO • 2

1. ESEGUI LE SEGUENTI ADDIZIONI E SOTTRAZIONI ENTRO IL 10 E CERCHIA LA RISPOSTA CORRETTA. SEGUI L'ESEMPIO.

$4 + 1 =$		$3 + 2 =$	
$7 + 2 =$		$8 - 2 =$	
$9 - 3 =$		$4 + 3 =$	
$8 - 4 =$		$7 + 3 =$	

2. ESEGUI LE SEGUENTI ADDIZIONI E SOTTRAZIONI ENTRO IL 20 E COLLEGALE AL RISULTATO CORRETTO.

	+		11
	+		7
	-		5
	+		15
	-		6
	-		20

2. COMPLETA LE ADDIZIONI DEGLI AMICI DEL 10 E CERCHIA LA RISPOSTA CORRETTA. SEGUI L'ESEMPIO.

$$3 + \begin{cases} \nearrow 7 \\ \rightarrow 6 \\ \searrow 8 \end{cases}$$

$$4 + \begin{cases} \nearrow 6 \\ \rightarrow 7 \\ \searrow 5 \end{cases}$$

$$5 + \begin{cases} \nearrow 4 \\ \rightarrow 6 \\ \searrow 5 \end{cases}$$

$$1 + \begin{cases} \nearrow 6 \\ \rightarrow 9 \\ \searrow 8 \end{cases}$$

$$8 + \begin{cases} \nearrow 2 \\ \rightarrow 3 \\ \searrow 1 \end{cases}$$

$$7 + \begin{cases} \nearrow 2 \\ \rightarrow 4 \\ \searrow 3 \end{cases}$$

3. COMPLETA LE ADDIZIONI ENTRO IL 10. SEGUI L'ESEMPIO.

$$4 + 6 = 10$$

$$\dots + 7 = 9$$

$$4 + \dots = 9$$

$$9 + \dots = 10$$

$$2 + \dots = 6$$

$$7 + 3 = \dots$$

$$1 + \dots = 8$$

$$10 + \dots = 10$$

$$6 + \dots = 9$$

4. COMPLETA LE SOTTRAZIONI ENTRO IL 10. SEGUI L'ESEMPIO.

$$7 - 3 = 4$$

$$5 - \dots = 3$$

$$8 - \dots = 6$$

$$5 - \dots = 2$$

$$9 - \dots = 1$$

$$7 - \dots = 0$$

$$\dots - 4 = 5$$

$$3 - 1 = \dots$$

$$\dots - 4 = 2$$